

Kesirler Test

1.



Yukarıdaki karpuzlar çeyrek karpuz olarak kesilirse kaç çeyrek karpuz elde edilir?

A) 6 B) 3 C) 12


2.



Yukarıdaki muzların çeyreğini yersek kaç muz yemiş oluruz?

A) 2 B) 16 C) 32

3.



Yukarıdaki çilekler toplamda kaç yarım çileğe eşittir?

A) 5 B) 10 C) 20

4.




Yukarıdaki yarım karpuzlar kaç bütün karpuza eşittir?

A) 14 B) 10 C) 7

5. 2 ekmeği çeyrek parçalara ayıran Zeynep 2 çeyrek ekmek yiyor. Buna göre geriye kaç çeyrek ekmek kalır?

A) 4 B) 6 C) 2

6.



Yukarıdaki ekmeklerde toplam kaç çeyrek ekmek vardır?


A) 12 B) 3 C) 6

7. Ahmet elindeki paranın çeyreğini harcadınca 12 ₺'si kalıyor. Ahmet'in parası kaç liradır?


A) 4 B) 8 C) 16

8. Aşağıdaki şekillerden hangisi $\frac{1}{4}$ 'i göstermektedir?


A)



B)



C)



9. Bir kümesteki 14 hayvanın $\frac{1}{2}$ 'si ördektir. Buna göre kümesteki ördek sayısı kaçtır?

A) 7 B) 10 C) 12

Kesirler Test

10.



Yukarıdaki elmalara kaç yarım elma daha eklersem 3 bütün elmaya sahip olabilirim?

- A) 1 B) 6 C) 3

11.



Yukarıda çeyrek olarak verilen çilekler kaç yarım çilek eder?

- A) 8 B) 4 C) 16

12. Aşağıdaki ifadelerden hangisi **doğru**-dur?

- A) Bir yarımda 2 çeyrek vardır.
B) Bir bütünde 2 çeyrek vardır.
C) Bir bütünde 4 yarım vardır.

13.



Yukarıdaki paranın çeyreğini kardeşime verirsem kaç liram kalır?

- A) 6 B) 9 C) 4

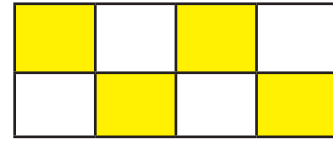
14. $\frac{1}{2}$ si 3 olan sayının 5 katı kaç eder?

- A) 11 B) 30 C) 15

15. Yarı 5 olan sayının 8 fazlası kaç eder?

- A) 13 B) 3 C) 18

16.



Yukarıdaki şeklin ne kadarı boyalıdır?

- A) Yarımı B) Çeyreği C) Bütünü

17. Aşağıda ifade edilen çokluklardan hangisi, diğerlerinden **daha azdır**?

- A) 8 çeyrek şeftali
B) 3 bütün şeftali
C) 6 yarım şeftali

18. Aşağıdaki şekillerden hangisi bir bütünü göstermektedir?

